

所给出的图、表、文字或综合性资料均有若干个问题要你回答。你应根据资料提供的信息进行分析、比较、计算和判断处理。请开始答题：一、根据以下资料，回答461~465题。

2015年保险公司原保险保费收入24282.52亿元，同比增长20.00%，比上一年高2.51个百分点（原文是2.51%），其中，产险业务原保险保费收入7994.97亿元，同比增长10.99%；寿险业务原保险保费收入13241.52亿元，同比增长21.46%；健康险业务原保险保费收入2410.47亿元，同比增长51.87%；意外险业务原保险保费收入635.56亿元，同比增长17.14%。

2015年保险公司赔款和给付支出8674.14亿元，同比增长20.20%，其中，产险业务赔款4194.17亿元，同比增长10.72%；寿险业务给付3565.17亿元，同比增长30.67%；健康险业务赔款和给付762.97亿元，同比增长33.58%；意外险业务赔款151.84亿元，同比增长18.24%。

截至2015年末，保险公司资金运用余额111795.49亿元，较年初增长19.81%。其中，银行存款24349.67亿元，占比21.78%；债券38446.42亿元，占比34.39%；股票和证券投资基金16968.99亿元，占比15.18%；其他投资32030.41亿元，占比28.65%。

截至2015年末，保险公司总资产123597.76亿元，较年初增长21.66%。其中，产险公司总资产18481.13亿元，较年初增长31.43%；寿险公司总资产99324.83亿元，较年初增长20.41%；再保险公司总资产5187.38亿元，较年初增长47.64%；资产管理公司总资产352.39亿元，较年初增长46.44%。

461、2013年保险公司原保险保费收入约为：

- A. 20667 亿元
- B. 18232 亿元
- C. 19426 亿元
- D. 17223 亿元

462、2015年，四大保险业务中，原保险保费收入占比最高值与最低值相差约：

- A. 40 个百分点
- B. 45 个百分点
- C. 50 个百分点
- D. 55 个百分点

463、2014年寿险业务原保险保费收入比其给付金额多：

- A. 10902 亿元
- B. 8174 亿元
- C. 9697 亿元
- D. 3800 亿元

464、截至 2015 年年末，保险公司资金运用余额占比最大的是：

- A. 银行存款
- B. 债券投资
- C. 股票和证券投资基金
- D. 其他投资

465、以下选项能够从资料中推出的是：

- A. 2015 年保险公司原保险保费收入增长最快的是意外险业务
- B. 2015 年保险公司资金运用中，股票和证券投资基金的收益最高
- C. 2015 年保险公司原保险保费收入满足不了其赔款和给付支出需求
- D. 2015 年年初产险公司和寿险公司总资产占保险公司总资产九成以上

二、根据以下资料，回答 466~470 题。

2012 年全国共有艺术院团 7321 个，比上年增加 266 个；从业人员 24.20 万人，增加 1.54 万人。各级文化部门管理的艺术院团 2128 个，占 29.1%；县级院团 6326 个，占 86.4%。

文化部组织全国优秀剧目展演，汇聚了全国各地 119 台优秀剧目，在首都各大剧场演出 240 多场，观众达 30 多万人。组织 2012 年国家艺术院团优秀剧目展演，9 个中直院团推出了 35 台精品佳作，演出 800 余场，演出收入 1.42 亿元，均创三年以来的新高。全年全国艺术院团共组织政府采购的公益演出 10.33 万场，比上年增长 25.0%；观众 10358.48 万人次，增长 32.8%。全国艺术院团赴农村演出 81.2 万场，占总演出场次的 60.1%，观众 52102.43 万人次，占观众总人次的 62.9%。表 2007-2012 年全国艺术院团基本情况

年份	机构数 (个)	从业人员 数(人)	演出场次 (万场)	国内演出 观众人次 (万人次)	总收入	
					(万元)	演出收入
2007 年	4512	220653	92.7	75895.6	829045	203757
2008 年	5114	208174	90.5	63186.8	933685	204842
2009 年	6139	184678	120.2	81715.9	1121559	288214
2010 年	6864	185413	137.1	88455.8	1239255	342696
2011 年	7055	226599	154.7	74585.1	1540263	526745
2012 年	7321	242047	135.0	82805.1	1968802	641480

466、2007~2012 年全国艺术院团演出场次超过其平均水平的有几年？

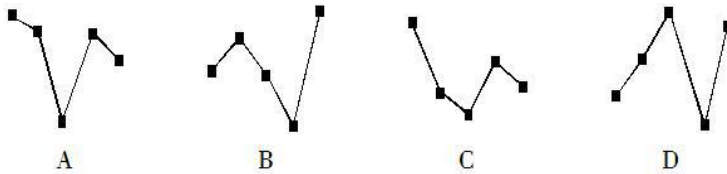
471、2014 年该市蔬菜产量比水果产量约高多少万吨？

- A. 8 B. 9 C. 6 D. 7

472、“十二五”期间，该市粮食总产量在以下哪个范围？

- A. 20~21 万吨之间 B. 21~22 万吨之间
C. 22~23 万吨之间 D. 23~24 万吨之间

473、以下哪张折线图能准确反映 2011—2015 年间，该市粮食生产同比增量的变化趋势？



474、按照 2015 年水产品产量从多到少，以下排序正确的是：
A. 海洋捕捞、海水养殖、淡水捕捞、淡水养殖
B. 淡水捕捞、淡水养殖、海洋捕捞、海水养殖
C. 淡水养殖、海洋捕捞、海水养殖、淡水捕捞
D. 淡水养殖、海水养殖、海洋捕捞、淡水捕捞

475、能够从上述资料中推出的是：

- A. 2014 年油料产量超过 1000 吨
B. 2014-2015 年甘蔗累计产量不到 1 万吨
C. 2010-2015 年，粮食产量同比上升的年份多于同比下降的年份
D. 除淡水养殖之外，其余类型的水产品 2015 年产量占水产品总产量的比重均高于上年

四、根据以下资料，回答 476~480 题。表 2014 年 1~11 月北京市规模以上工业主要产品产量

产品名称	计量单位	2014 年 11 月	同比增长 (%)	2014 年 1~11 月	同比增长 (%)
发电量	万千瓦小时	313383	-4.4	2981109	0.3
原油加工量	吨	829492	-1.5	9629803	21.3
乙烯	吨	60031	-6.9	711142	9.2

金属切削机床	台	1644	98.6	15192	55.3
汽车	辆	190816	-3.1	1938522	5.7
其中：基本型乘用车 (轿车)	辆	101789	2.5	1050449	24.7
啤酒	千升	62471	-15.7	1505358	-5.4
程控交换机	线	715328	-16.6	8950516	34.3
移动通信手持机(手机)	台	13328622	-15.6	16934486 7	-2.1
微型计算机设备	台	1513263	21.2	8827449	-14.0
显示器	台	546779	4.4	5079595	96.0
集成电路	万块	55450	50.1	477707	28.4

476、如果保持同比增长速度不变，2015 年 1~11 月北京市汽车产量将达到多少万辆？

A. 196.7 B. 204.9 C. 213.6 D. 225.4

477、北京市规模以上工业主要产品中，2014 年 11 月产量占其 1~11 月累计产量 10% 以上的有几个？

A. 4 B. 5 C. 6 D. 7

478、2014 年 11 月，原油加工量比乙烯产量多几倍？

A. 10.6 B. 11.6 C. 12.8 D. 13.8

479、2014 年 11 月，下列产品同比增长量最大的是哪个？

- A. 金属切削机床 B. 移动通信手持机（手机）
C. 微型计算机设备 D. 显示器

480、下列判断正确的是：

- A. 2014 年，北京市规模以上工业主要产品中 11 月增长最快的产品，1~11 月累计增长也最快
B. 2014 年 11 月，啤酒的产量超过了本年前十一个月的平均产量
C. 2014 年 11 月，基本型乘用车（轿车）占汽车的比重约为 53.3%
D. 2014 年 1~10 月，程控交换机的同比增长率不足 34.3%

五、根据以下资料，回答 481~485 题。

2014 年末全国就业人员 77253 万人，比上年末增加 276 万人。其中，城镇就业人员 39310

万人，比上年末增加 1070 万人。

表 2010~2014 年末全国劳动就业状况

年份	2010	2011	2012	2013	2014
城镇新增就业人数(万人)	1168	1221	1266	1310	1322
城镇失业人员再就业人数(万人)	547	553	552	566	551
城镇登记失业人数(万人)	908	922	917	926	952
城镇登记失业率(%)	4.14	4.09	4.09	4.05	4.09
第一产业就业人员占比(%)	36.7	34.8	33.6	31.4	29.5
第二产业就业人员占比(%)	28.7	29.5	30.3	30.1	29.9
第三产业就业人员占比(%)	34.6	35.7	36.1	38.5	40.6

481、2014 年末全国城镇新增就业人数比 2013 年末增长：

- A. 0.7% B. 0.9% C. 1.2% D. 1.6%

482、2013 年末全国就业人员中从事第三产业的人数为：

- A. 23170 万 B. 24171 万 C. 29636 万 D. 31365 万

483、和 2010 年末相比，2014 年末全国第一产业就业人员占比提高了：

- A. -7.2 个百分点 B. 1.2 个百分点
C. 6.0 个百分点 D. 7.2 个百分点

484、2011~2014 年，全国城镇失业人员再就业人数占上年末全国城镇登记失业人数比重的最大值是：

- A. 59.5% B. 59.9% C. 60.9% D. 61.7%

485、下列判断正确的是：

- A. 2014 年末全国第二产业就业人数比上年末有所增加
B. 2014 年末全国城镇就业人员比上年末增加 1322 万人
C. 2011~2014 年末，全国第三产业就业人员占比逐年增加
D. 2011~2014 年末，全国城镇登记失业率和城镇登记失业人数的变化趋势相同

六、根据以下资料，回答 486~490 题。

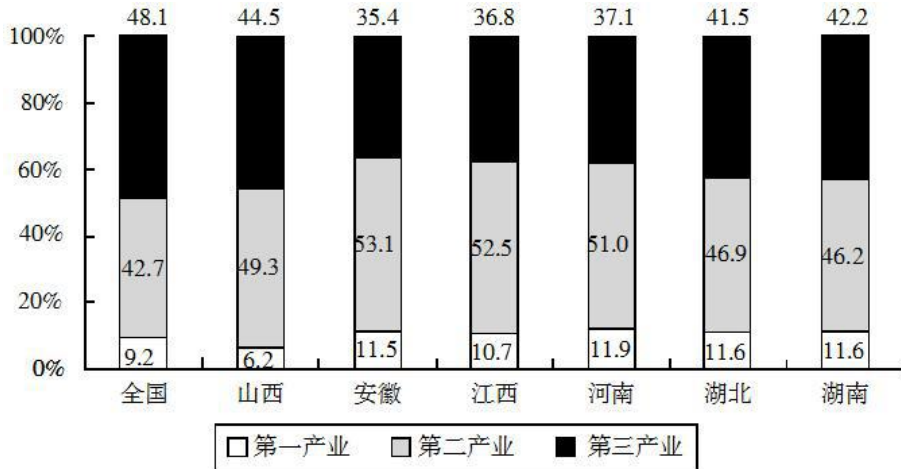


图 2014 年全国及中部六省生产总值分产业构成

表 2014 年全国及中部六省基础性原料生产状况 (万吨)

地区	原煤	粗钢	原油	水泥
全国	387400	82230.63	21142.92	249207.1
山西	92800	4325.40	0	4831.96
安徽	12800	2451.40	0	12982.13
江西	2800	2235.30	0	9848.60
河南	14416	2882.16	470.46	17331.49
湖北	1100	3020.87	79	11423.74
湖南	5600	1917.60	0	12186.83

486、2014 年中部六省原煤产量占全国原煤总产量的:

- A. 30%以下
- B. 30%~35%之间
- C. 35%~40%之间
- D. 40%以上

487、在四大基础性原料中，2014 年河南省产量位居中部六省首位的有几项?

- A. 1
- B. 2
- C. 3
- D. 4

488、中部六省中，2014 年粗钢产量最高的省份，当年水泥产量在中部六省中排:

- A. 第 2
- B. 第 3
- C. 第 5
- D. 第 6

489、中部六省中，2014 年二、三产业增加值占该省 GDP 比重相差最大的省份，第一产业增加值占 GDP 比重与全国水平相比:

- A. 高 1.5 个百分点
- B. 高 2.3 个百分点
- C. 高 2.7 个百分点
- D. 低 3.0 个百分点

490、关于 2014 年中部六省发展情况，能够从上述资料中推出的是：

- A. 中部六省中只有一半省份有原油出产
- B. 原煤、粗钢和水泥产量均居中部六省前三位的省份有 1 个
- C. 第二产业增加值占 GDP 总量一半以上的省份水泥产量均超过 1 亿吨
- D. 第三产业增加值占 GDP 比重居中部六省第二的省份原煤产量也排第二

七、根据以下资料，回答 491~495 题。

2014 年某省进出口总额 2771.2 亿美元，比上年增长 4.0%。其中，出口额增长 7.9%，进口额增长 1.2%。主要出口市场中，对美国、欧盟、东盟和韩国出口额分别增长 13.2%、8.8%、13.8%和 8.9%，对日本出口额下降 0.9%。

2014 年，机电产品出口 561.6 亿美元，增长 11.0%；高新技术产品出口 205.9 亿美元，增长 18.4%。新批准设立外商投资企业 1352 家，合同外资 159.5 亿美元；实际到帐外资 152.0 亿美元，比上年增长 8.1%。其中，制造业到账外资 86.5 亿美元，服务业到账外资 54.3 亿美元。总投资过亿美元的项目 50 个，合同外资 37.2 亿美元。引进世界 500 强企业投资项目 22 个，实际到帐外资 4.1 亿美元。备案核准设立境外企业（机构）524 家，比上年增长 18.3%；备案核准中方投资 62.9 亿美元，增长 39.4%；实际对外投资 44.1 亿美元，增长 14.6%。对外承包工程完成营业额 92.5 亿美元，增长 7.1%；派出各类劳务人员 59941 人，增长 14.0%。

491、2013 年，该省进口额占进出口总额的比重约（ ）

- A. 28%
- B. 42%
- C. 58%
- D. 65%

492、2014 年，该省平均每家新批准设立外商投资企业的合同外资为（ ）万美元。

- A. 873.7
- B. 1028.6
- C. 1179.7
- D. 1384.5

493、2014 年，该省平均每家备案核准设立境外企业（机构）核准中方投资额相比上年增长（ ）

- A. 21.1%
- B. 7.9%
- C. 17.8%
- D. 28.4%

494、2013 年，该省机电产品出口额比高新技术产品出口额多（ ）亿美元。

- A. 360
- B. 346
- C. 332
- D. 321

495、从材料中可以推出的是：

- A. 2013 年，该省进出口总额不足 2600 亿美元
- B. 2014 年，该省对外承包工程完成营业额同比增长约 6 亿美元

- C. 2014 年, 该省对外主要出口市场中, 出口增速最快的是美国
- D. 2013 年, 该省对日本出口总额小于对欧盟出口总额

八、根据以下资料, 回答 496~500 题。

2015 年中国电子商务市场交易规模 16.4 万亿元, 增长 22.7%。其中网络购物增长 36.2%, 在线旅游增长 39.9%, 本地生活服务 O2O 增长 38.3%。2015 年中国移动网购市场交易规模达 2.1 万亿元, 同比增长 123.8%。



图 1 2011-2018 年中国电子商务市场交易规模

注: 2016-2018 年交易规模及增长率为预测值

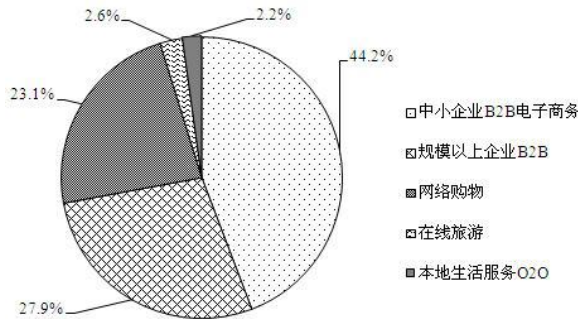


图 2 2015 年中国电子商务市场细分行业构成

496、2014 年网络购物交易规模在以下哪个范围内?

- A. 超过 7 万亿元
- B. 5~7 万亿元
- C. 3~5 万亿元
- D. 不到 3 万亿元

497、2015 年中小企业 B2B 电子商务交易规模约是网络购物的多少倍?

- A. 1.1
- B. 1.4
- C. 1.9
- D. 2.5

498、2015 年中国移动网购市场交易规模占网络购物的比重约为：

- A. 49% B. 53% C. 55% D. 57%

499、2015 年在线旅游市场交易规模约增长了多少万亿元？

- A. 0.12 B. 0.22 C. 0.33 D. 0.43

500、能够从上述材料中推出的是：

- A. 2018 年中国电子商务市场交易规模将超过 2016 年的 1.5 倍
B. 2015 年在线旅游市场交易规模增长率高于本地生活服务 O2O 市场
C. 2015 年本地生活服务 O2O 市场交易规模增长率低于网络购物市场
D. 2012-2015 年电子商务市场交易规模增长率均高于网络购物市场